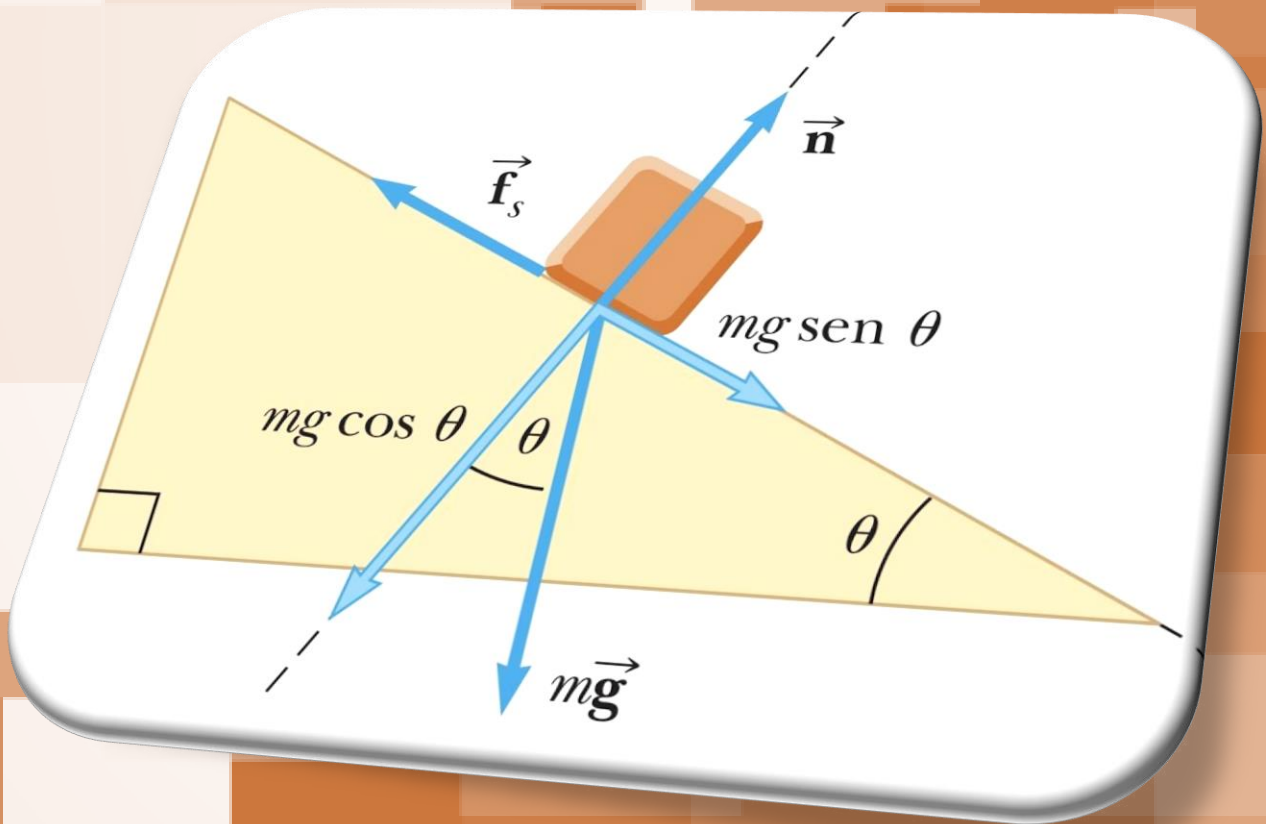


TRIGONOMETRÍA

4° ESO



En esta unidad vas a:

- 1. Medir ángulos tanto en radianes como en grados sexagesimales y cambiar de unas unidades a otras.**
- 2. Conocer las razones trigonométricas de un ángulo agudo y relacionarlas.**
- 3. Aprender las razones trigonométricas de los ángulos más importantes.**
- 4. Reconocer las razones trigonométricas de ángulos complementarios, ángulos suplementarios, ángulos opuestos y negativos.**
- 5. Calcular las razones trigonométricas conocidas una de ellas.**
- 6. Reducir ángulos al primer cuadrante.**
- 7. Utilizar adecuadamente, y con soltura, la calculadora para efectuar cálculos trigonométricos.**
- 8. Resolver triángulos rectángulos.**
- 9. Aplicar relaciones trigonométricas sencillas para el cálculo de distancias y ángulos en situaciones reales.**

SUMARIO

- 7.00.- Lectura Comprensiva
- 7.01.- Introducción
- 7.02.- Ángulos y sus medidas
- 7.03.- Razones Trigonométricas de un ángulo agudo
- 7.04.- Relaciones entre las razones trigonométricas
- 7.05.- Razones trigonométricas de 30° , 45° y 60°
- 7.06.- Razones trigonométricas de un ángulo cualquiera
- 7.07.- Signo de las razones trigonométricas
- 7.08.- Relaciones entre las razones trigonométricas
 - 7.08.1.- Razones suplementarias y opuestas
 - 7.08.2.- Razones de ángulos mayores de 360°
 - 7.08.3.- Razones de ángulos negativos
- 7.09.- Resolución de Triángulos rectángulos
- 7.10.- Autoevaluación

7.00.- Lectura Comprensiva

La medición del mundo

Una de las historias más famosas acerca de Carl Friedrich Gauss (1777-1855) nos lo presenta midiendo los ángulos del gran triángulo terrestre formado por los picos de los montes alemanes Hohenhagen, Inselsberg y Brocken, a fin de contrastar si la geometría del espacio real era o no euclídea. Pero dicha historia ha resultado controvertida y ha sido puesta en cuestión.

- El cielo estaba encapotado, la tierra, embarrada. Trepó por encima de un seto y se encontró, jadeante, sudado y cubierto de agujas de pino, delante de dos muchachas. Al preguntarle qué hacía allí, explicó, nervioso, la técnica de la triangulación: conociendo un lado y dos ángulos de un triángulo, se podían determinar los otros lados y el ángulo desconocido. Así que se escogía un triángulo en cualquier lugar de aquella tierra de Dios, se medía el lado de más fácil acceso, y se determinaban los ángulos para el tercer punto con ese aparato. Levantó el teodolito y lo giró, así asá, y fijense ustedes, así, con dedos torpes, de un lado a otro, como si fuera la primera vez. Luego añádase una serie de tales triángulos uno junto a otro. [...]

Pero un paisaje, repuso la mayor de las dos, no era un plano.

Él la miró fijamente. Había faltado la pausa. Como si ella no precisase reflexionar.

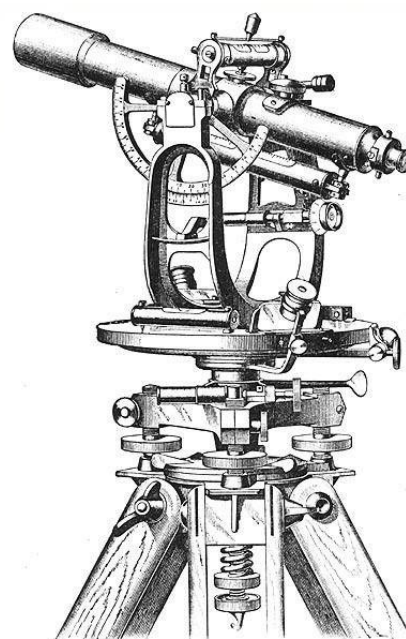
Desde luego que no, contestó él sonriendo.

Los ángulos de un triángulo, dijo ella, sumaban en un plano ciento ochenta grados, pero no sobre una esfera. Con eso quedaba dicho todo.

Él la observó como si la viera entonces por primera vez. Ella le devolvió la mirada enarcando las cejas. Sí, dijo él. Bien. Para compensarlo, había que encoger en cierto modo los triángulos después de la medición hasta un tamaño infinitamente pequeño. En principio una sencilla operación diferencial. Aunque de esa forma... Se sentó en el suelo y sacó su bloc. De esa forma, murmuró mientras pergeñaba sus anotaciones, todavía no lo había realizado nadie. Cuando levantó la vista, se había quedado solo. [...]

Pidió por carta la mano de Johanna y fue rechazado. No tenía nada contra él, escribió ella, sólo que dudaba que la existencia a su lado fuese saludable. Sospechaba que él extraía la vida y la energía de las personas de su entorno, igual que la tierra del sol y el mar de los ríos, de que cerca de él una estaría condenada a la palidez y a la semirrealidad de una existencia de espectro. -

Pasado un tiempo, lo volvió a intentar y, esta vez, fue aceptado. «Él», uno de los protagonistas de esta historia, se llamaba Gauss y fue uno de los astrónomos, físicos y matemáticos más importantes del siglo XIX.

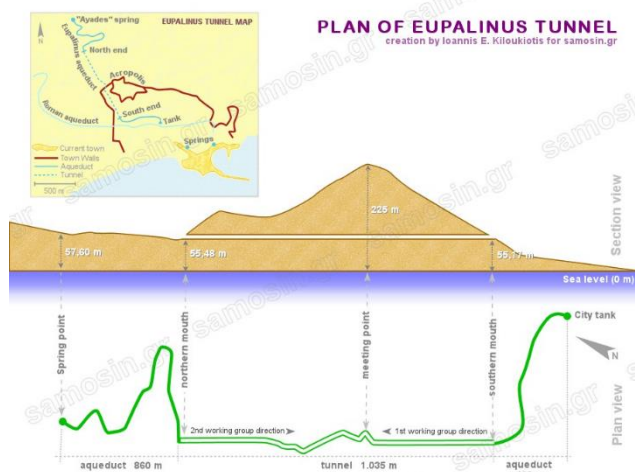


Lee nuevamente el texto anterior y responde a las cuestiones:

- 1.- ¿De qué famoso científico habla esta historia?
- 2.- ¿Por qué Johanna le rechazó la primera vez?
- 3.- ¿Qué es un teodolito y para que se usa?

7.01.- Introducción.

Una de las construcciones más notables de los antiguos griegos fue el túnel de Samos, en el que, ineludiblemente se empleó la triangulación. Se realizó en el siglo VI a.C. para llevar agua desde las fuentes del Monte Castro a la ciudad de Samos (donde nació Pitágoras), situada en aguas del mar egeo. El túnel tenía unos dos metros de diámetro y algo más de un kilómetro de longitud. Se excavó partiendo simultáneamente de sus dos extremos A y B, lo que suponía una planificación tecnológica sorprendente.



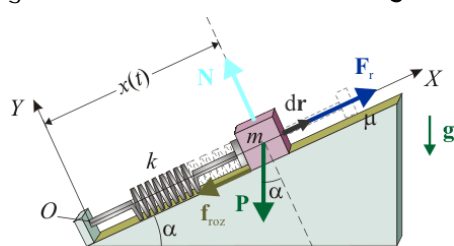
Es el primero del que se conoce el nombre del ingeniero que lo construyó, **Eupalinos de Megara**. Este ingeniero griego es hijo de Naustrophos y es famoso por su habilidad en la construcción de acueductos y túneles, así como por su conocimiento en la aplicación de técnicas matemáticas y geométricas en la construcción. El **Túnel de Eupalinos** todavía se puede visitar hoy en día y es un importante sitio arqueológico y turístico en Samos.

Se trata de una obra de un kilómetro de longitud, que transcurre bajo el monte Kastro, construida hacia el 530 a.C., durante el mandato del tirano Polícrates. El túnel se excavó manualmente en roca caliza, con una sección cuadrada de 1,75 m x 1,75 m, sirviendo de apoyo para la construcción del acueducto de la capital de la isla (que hoy es llamado Pitagoreión) y como vía de escape en caso de asedio. Se extrajeron 7.000 m³ de roca, para lo cual se emplearon unos 4.000 esclavos y se tardó más de una década tanto para la construcción del túnel como del acueducto. El historiador Heródoto describió la obra en su Libro III.

El túnel, que estuvo funcionando durante más de mil años, fue considerado como una de las tres maravillas del Mundo Heleno, y desde luego, una de las obras maestras de la ingeniería de la antigüedad. En efecto, el problema más importante al que se tuvo que enfrentar Eupalinos fue superar los errores en la medición, de forma que los dos equipos que excavaban el túnel desde los dos extremos se encontraran. Al final solo hubo una desviación lateral de 6 m y vertical de 60 cm. A lo largo de la galería todavía se puede ver la línea de nivel que servía de guía para la excavación, que tiene una pendiente bastante regular de 0,4%. También se conservan inscripciones de los responsables de cada grupo de trabajo a lo largo del túnel. Os propongo que expliquéis cómo se podría realizar el cálculo usando únicamente triángulos rectángulos y alcanzar dicha precisión. Aunque también podéis ver alguno de los videos que os dejo en el classroom, donde se explica el procedimiento.

En esta unidad se explican y aplican los conceptos y procedimientos que conducen al concepto de razón trigonométrica, estableciéndose así los cimientos sobre los que se basa el concepto de función trigonométrica.

En esta unidad se trabaja aprovechando contenidos de geometría referentes a la semejanza de triángulos y se aborda la **resolución de triángulos rectángulos** remarcando de esta forma la importancia de las aplicaciones

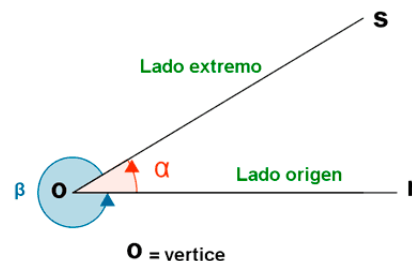


de la Trigonometría en aspectos de la vida cotidiana y en relación con otras asignaturas como la Topología, la Astronomía y sobre todo con la Física. Ejemplo de esto es la descomposición de fuerzas en un plano inclinado a la hora de calcular la aceleración del movimiento con la ayuda de la segunda ley de Newton.

$$\sum_i \vec{F}_i = m \cdot \vec{a}$$

7.02.- Ángulos y sus medidas

Se le llama **ángulo** a la región del plano entre dos semirrectas que tienen un punto en común llamado vértice. También lo podemos definir como la amplitud de rotación o giro que describe un segmento rectilíneo en torno de uno de sus extremos tomado como vértice, desde una posición inicial hasta una posición final.



Criterio de Signos	
Ángulo Positivo	Ángulo Negativo
Si la rotación es en sentido levógiro, (anti horario).	Si la rotación es en sentido dextrógiro (horario).

Según la amplitud del ángulo, los podemos clasificar en:



Hasta ahora, hemos utilizado el **sistema sexagesimal** para medir amplitudes de ángulos, o simplemente ángulos. La unidad de medida de ángulos en este sistema es el **grado**, que se expresa mediante el símbolo $^{\circ}$, y sus submúltiplos son el **minuto** y el **segundo**.

$$43^{\circ} 23' 45'' \rightarrow 43 \text{ grados, } 23 \text{ minutos y } 45 \text{ segundos}$$

Pues a partir de ahora podemos utilizar el **sistema radial** cuya unidad es el **radián** (rad)

MEDIDA DE ÁNGULOS	
en Grados (DEG):	en Radianes: (RAD):
<p>El grado es el ángulo plano que teniendo vértice en el centro de un círculo, intercepta sobre la circunferencia de ese círculo un arco de longitud l.</p> $l = \frac{2\pi R}{360^{\circ}}$ <p style="text-align: center;">Se simboliza por $^{\circ}$</p>	<p>El radián es el ángulo plano que teniendo su vértice en el centro de un círculo, intercepta sobre la circunferencia de ese círculo un arco de longitud igual al radio.</p> <p style="text-align: center;">Se simboliza por rad</p>

Para cambiar de una unidad a otra simplemente hemos de saber que 180 grados sexagesimales se corresponden con π radianes:

$$180^\circ = \pi \text{ rad}$$

Ejemplo

1.- Expresa en radianes el ángulo de 45° sexagesimales y $\pi/3$ radianes en grados.

Tanto para pasar de grados a radianes y viceversa, utilizaremos una proporción o regla de 3:

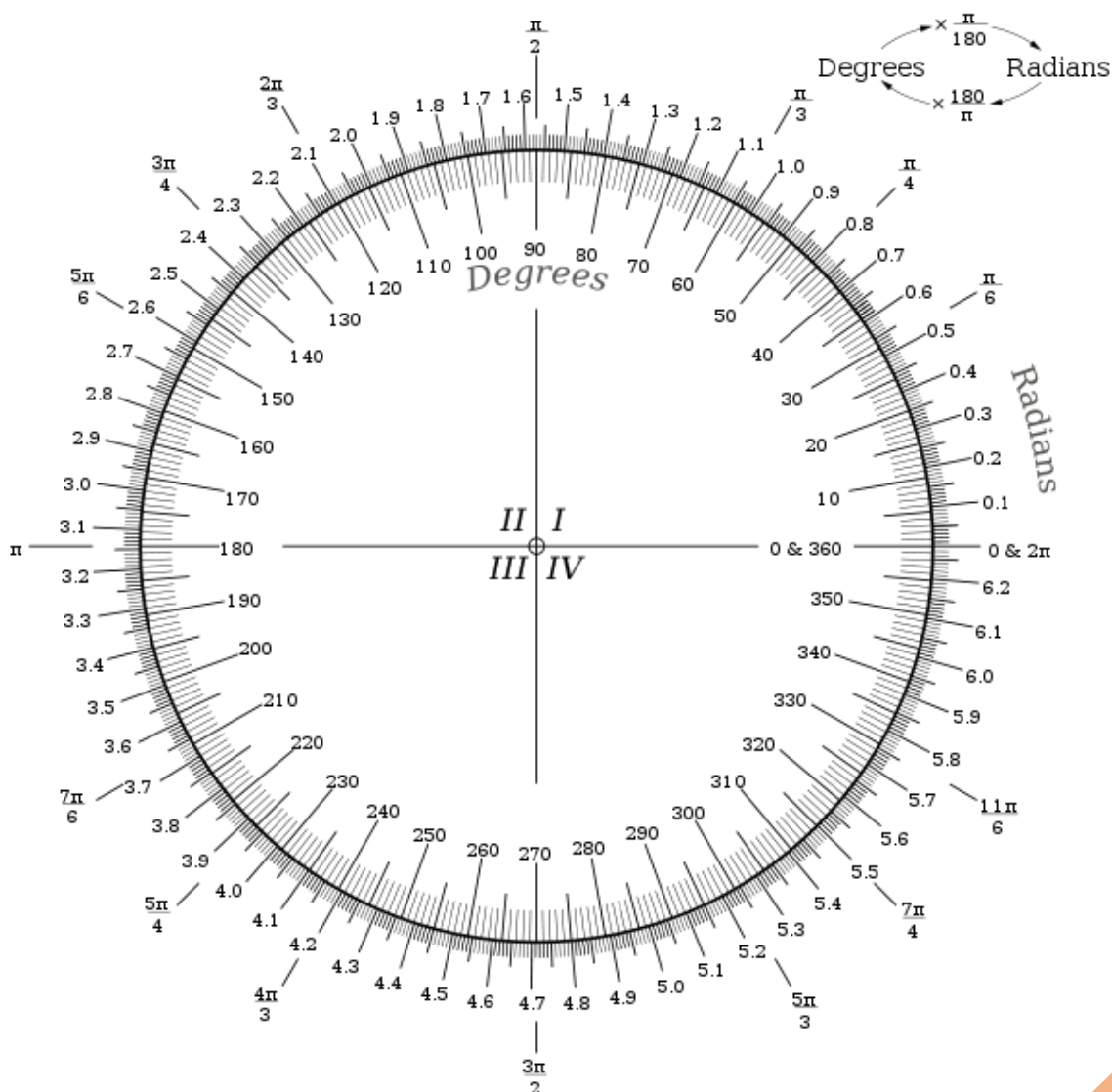
$$\frac{180^\circ}{\pi \text{ rad}} = \frac{45^\circ}{x} \rightarrow x = \frac{45 \cdot \pi}{180} = \frac{\pi}{4} \text{ rad}$$

$$\frac{180^\circ}{\pi \text{ rad}} = \frac{y}{\pi/3} \rightarrow y = \frac{180 \cdot \frac{\pi}{3}}{\pi} = \frac{180}{3} = 60^\circ$$

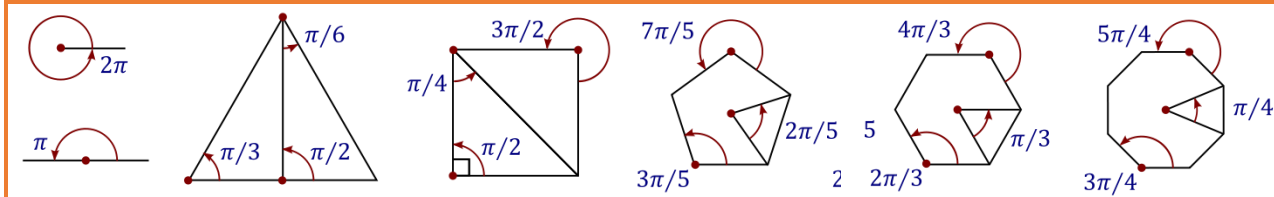
Por tanto 45° se corresponden con $\frac{\pi}{4}$ rad y $\frac{\pi}{3}$ rad con 60° .

Tabla de equivalencia entre grados sexagesimales y radianes

Grados	0°	30°	45°	60°	90°	120°	135°	150°	180°	210°	225°	240°	270°	300°	315°	330°	360°
Radianes	0	$\pi/6$	$\pi/4$	$\pi/3$	$\pi/2$	$2\pi/3$	$3\pi/4$	$5\pi/6$	π	$7\pi/6$	$5\pi/4$	$4\pi/3$	$3\pi/2$	$5\pi/3$	$7\pi/4$	$11\pi/6$	2π



Ángulos en las figuras geométricas más comunes



Piensa y practica

1.- Expresa en radianes estos ángulos:

- a) 180° b) 540° c) 900° d) 1080° e) 1440°

2.- Expresa en grados sexagesimales:

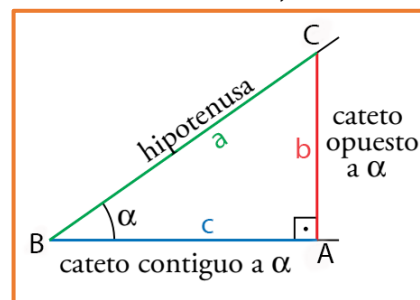
- a) 7π rad b) $\frac{\pi}{3}$ rad c) $\frac{\pi}{6}$ rad d) $\frac{3\pi}{4}$ rad e) $\frac{2\pi}{5}$ rad

7.03.- Razones trigonométricas de un ángulo agudo.

Cuando hablamos de **razón** nos estamos refiriendo a un cociente. Como vamos a ver, las **razones trigonométricas** relacionan lados y ángulos a través de cocientes.

A partir de cualquier ángulo agudo α (menor de 90°) es posible construir un triángulo rectángulo ABC como el que puedes apreciar en la siguiente figura.

Teniendo en cuenta dicha figura geométrica y fijándonos en el ángulo α formado en el vértice B, es posible obtener una serie de razones que reciben el nombre de razones trigonométricas conocidas como **seno**, **coseno**, **tangente**, **cosecante** y **cotangente**.



🍏 **Seno del ángulo α** : El seno de un ángulo agudo α , es el cociente entre la longitud del cateto opuesto (b) al ángulo y la longitud de la hipotenusa (a). Se representa como $\text{sen}(\alpha)$ o $\sin(\alpha)$.

$$\text{sen}(\alpha) = \frac{\text{Cateto Opuesto (b)}}{\text{Hipotenusa (a)}} = \frac{b}{a}$$

🍏 **Coseno del ángulo α** : El coseno de un ángulo agudo α , es el cociente entre la longitud del cateto contiguo (c) al ángulo α y la longitud de la hipotenusa (a). Se representa como $\text{cos}(\alpha)$.

$$\text{cos}(\alpha) = \frac{\text{Cateto Contiguo (c)}}{\text{Hipotenusa (a)}} = \frac{c}{a}$$

🍏 **Tangente del ángulo α** : La tangente de un ángulo agudo α , es el cociente entre el seno y el coseno o, dicho de otra manera, el cociente entre la longitud del cateto opuesto (b) y la longitud del cateto contiguo (c). Se representa como $\text{tg}(\alpha)$ o $\tan(\alpha)$.

$$\text{tg}(\alpha) = \frac{\text{sen}(\alpha)}{\text{cos}(\alpha)} = \frac{\frac{\text{Cateto Opuesto (b)}}{\text{Hipotenusa (a)}}}{\frac{\text{Cateto Contiguo (c)}}{\text{Hipotenusa (a)}}} = \frac{\text{Cateto Opuesto (b)} \cdot \cancel{\text{Hipotenusa (a)}}}{\text{Cateto Contiguo (c)} \cdot \cancel{\text{Hipotenusa (a)}}} = \frac{\text{Cateto Opuesto (b)}}{\text{Cateto Contiguo (c)}} = \frac{b}{c}$$

El seno y el coseno de un ángulo agudo son siempre mayores que 0, porque estamos dividiendo distancias positivas, y menores que 1, puesto que la hipotenusa siempre es mayor que cualquiera de los catetos. En el caso de la tangente puede tomar cualquier valor positivo.

$$0 \leq \text{sen}(\alpha) \leq 1$$

$$0 \leq \text{cos}(\alpha) \leq 1$$

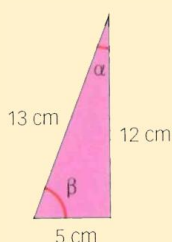
El seno, el coseno y la tangente son las razones trigonométricas principales. El resto, como vamos a ver, se pueden obtener simplemente haciendo el valor inverso de estas, de ahí que se llamen **usualmente razones inversas**. Como se trata del inverso multiplicativo o recíproco (inverso respecto a la operación de multiplicación), también se suelen llamar razones recíprocas.

RAZONES TRIGONOMÉTRICAS INVERSAS O RECÍPROCAS

Secante de α	Cosecante de α	Cotangente de α
Es la inversa del coseno	Es la inversa del seno	Es la inversa de la tangente
$\sec(\alpha) = \frac{1}{\cos(\alpha)} = \frac{\text{Hipotenusa (a)}}{\text{Cateto Contiguo (c)}} = \frac{a}{c}$	$\csc(\alpha) = \frac{1}{\sin(\alpha)} = \frac{\text{Hipotenusa (a)}}{\text{Cateto Opuesto (b)}} = \frac{a}{b}$	$\cotg(\alpha) = \frac{1}{\text{tg}(\alpha)} = \frac{\text{Cateto Contiguo (c)}}{\text{Cateto Opuesto (b)}} = \frac{c}{b}$

Ejemplo

2.- Halla las razones trigonométricas principales de los ángulos que aparecen en la figura:



$$\sin(\alpha) = \frac{5}{13} = 0,385$$

$$\cos(\alpha) = \frac{12}{13} = 0,923$$

$$\text{tg}(\alpha) = \frac{5}{12} = 0,417$$

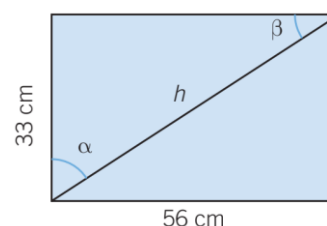
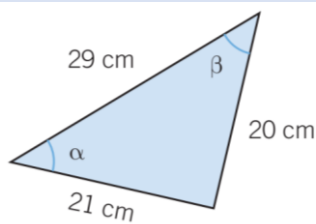
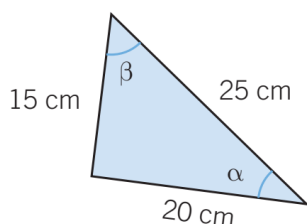
$$\sin(\beta) = \frac{12}{13} = 0,923$$

$$\cos(\beta) = \frac{5}{13} = 0,385$$

$$\text{tg}(\beta) = \frac{12}{5} = 2,40$$

Piensa y practica

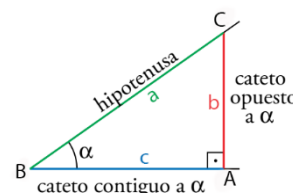
3.- Dadas las siguientes figuras, calcula en cada una de ellas las razones trigonométricas de los ángulos α y β :



7.04.- Relaciones entre las razones trigonométricas.

Los valores de **sen**, **cos** y **tg** de un mismo ángulo no son independientes, sino que están relacionados, de tal modo que conociendo uno de ellos, podemos calcular los otros dos. La expresión que los relaciona se llama **identidad fundamental de la trigonometría** y viene dada por:

$$\boxed{\sin^2(\alpha) + \cos^2(\alpha) = 1}$$



DEMO

Sabemos que en cualquier triángulo rectángulo ocurre que: $b^2 + c^2 = a^2$, si dividimos todo por a^2 , llegamos a:

$$\frac{b^2}{a^2} + \frac{c^2}{a^2} = \frac{a^2}{a^2} \quad \text{simplificando} \quad \frac{b^2}{a^2} + \frac{c^2}{a^2} = 1 \quad \text{agrupando llegamos a} \quad \left(\frac{b}{a}\right)^2 + \left(\frac{c}{a}\right)^2 = 1. \quad \text{Como } \frac{b}{a} \text{ se}$$

corresponde con el seno de α , y $\frac{c}{a}$ se corresponde con el coseno, si sustituimos $(\sin \alpha)^2 + (\cos \alpha)^2 = 1$. **Cqd.**

Nota: En lugar de $(\sin \alpha)^2$ se suele escribir como $\sin^2 \alpha$

Si en la expresión fundamental de la trigonometría, dividimos todo por $\cos^2 \alpha$, llegamos a:

$$\sin^2(\alpha) + \cos^2(\alpha) = 1 \quad \rightarrow \quad \frac{\sin^2(\alpha)}{\cos^2(\alpha)} + \frac{\cos^2(\alpha)}{\cos^2(\alpha)} = \frac{1}{\cos^2(\alpha)} \quad \rightarrow \quad \operatorname{tg}^2(\alpha) + 1 = \frac{1}{\cos^2(\alpha)}$$

Así que, resumiendo, las relaciones entre las razones trigonométricas son:

$$\sin^2(\alpha) + \cos^2(\alpha) = 1 \quad \operatorname{tg}(\alpha) = \frac{\sin(\alpha)}{\cos(\alpha)} \quad \operatorname{tg}^2(\alpha) + 1 = \frac{1}{\cos^2(\alpha)}$$

Como hemos dicho con anterioridad, estas tres expresiones las vamos a utilizar, sobre todo, para conocida una de las razones trigonométricas de un ángulo agudo, poder calcular las demás.

Ejemplo

3.- Sabiendo que $\cos \alpha = 0,63$, calcula las otras dos razones trigonométricas, $\sin \alpha$ y $\operatorname{tg} \alpha$.

Si $\cos(\alpha) = 0,63$, podemos calcular el seno, usando la identidad fundamental de la trigonometría, $\sin^2 \alpha + \cos^2 \alpha = 1$, en la que despejaremos el seno:

$$\sin^2 \alpha + \cos^2 \alpha = 1 \quad \rightarrow \quad \sin^2 \alpha = 1 - \cos^2 \alpha \quad \rightarrow \quad \sin \alpha = +\sqrt{1 - \cos^2 \alpha} = \sqrt{1 - 0,63^2} = 0,78$$

Y con el seno y el coseno, ya podemos calcular la tangente:

$$\operatorname{tg}(\alpha) = \frac{\sin(\alpha)}{\cos(\alpha)} \quad \rightarrow \quad \operatorname{tg}(\alpha) = \frac{0,78}{0,63} = 1,24$$

Por tanto, $\sin \alpha = 0,78$ y $\operatorname{tg} \alpha = 1,24$

4.- Sabiendo que $\operatorname{tg} \alpha = 2$, calcula las otras dos razones trigonométricas, $\sin \alpha$ y $\cos \alpha$.

Si llamamos s al $\sin \alpha$ y c al $\cos \alpha$, mediante la ecuación fundamental de la trigonometría y la definición de tangente, podemos plantear un sistema de ecuaciones no lineales:

$$\operatorname{tg}(\alpha) = \frac{\sin(\alpha)}{\cos(\alpha)} \quad \rightarrow \quad 2 = \frac{s}{c} \quad \rightarrow \quad s = 2c \quad \text{y} \quad s^2 + c^2 = 1$$

$$\begin{cases} s = 2c \\ s^2 + c^2 = 1 \end{cases} \xrightarrow{\text{Sustituyendo}} (2c)^2 + c^2 = 1 \quad \rightarrow \quad 4c^2 + c^2 = 1 \quad \rightarrow \quad 5c^2 = 1 \quad \rightarrow \quad c^2 = \frac{1}{5} \quad \rightarrow \quad c = +\sqrt{\frac{1}{5}} = \frac{\sqrt{5}}{5}$$

$$\text{Como } \cos \alpha = \frac{\sqrt{5}}{5} \text{ y } \sin \alpha = 2 \cos \alpha \quad \rightarrow \quad \sin \alpha = \frac{2\sqrt{5}}{5}$$

Por tanto, $\cos \alpha = \frac{\sqrt{5}}{5} = 0,45$ y $\sin \alpha = \frac{2\sqrt{5}}{5} = 0,89$

Piensa y practica

4.- Si el seno de un ángulo agudo β es $0,6$, calcula las otras razones trigonométricas

5.- Si la tangente de un ángulo agudo α es $\frac{\sqrt{2}}{2}$ calcula tanto el seno como el coseno de dicho ángulo.

6.- Decide si existe un ángulo α que cumpla las siguientes condiciones: $\sin \alpha = 0,5736$ y $\cos \alpha = 0,8192$

7.- Decide si existe un ángulo β que cumpla las siguientes condiciones: $\cos \alpha = 0,3240$ y $\operatorname{tg} \alpha = 0,4663$

Además de para calcular las restantes razones trigonométricas de un ángulo agudo conocida una de ellas, también las podemos utilizar para verificar o demostrar otras. Para ello intentaremos llegar a la identidad fundamental de la trigonometría, o a otra identidad como $1=1$.

Ejemplo

5.- Demuestra la siguiente expresión trigonométrica: $\frac{1-\operatorname{sen}\alpha}{\operatorname{cos}\alpha} = \frac{\operatorname{cos}\alpha}{1+\operatorname{sen}\alpha}$

Si multiplicamos en cruz:

$$\frac{1-\operatorname{sen}\alpha}{\operatorname{cos}\alpha} = \frac{\operatorname{cos}\alpha}{1+\operatorname{sen}\alpha} \rightarrow (1-\operatorname{sen}\alpha)(1+\operatorname{sen}\alpha) = \operatorname{cos}^2\alpha \rightarrow 1-\operatorname{sen}^2\alpha = \operatorname{cos}^2\alpha \rightarrow 1 = \operatorname{sen}^2\alpha + \operatorname{cos}^2\alpha \rightarrow 1=1$$

Llegamos a la identidad fundamental de la trigonometría, por tanto quedaría demostrado, ya que 1 es igual a 1. **C.q.d.**

Piensa y practica

8.- Demuestra las siguientes identidades trigonométricas

a) $\operatorname{sen}^2 x - \operatorname{cos}^2 y = \operatorname{sen}^2 y - \operatorname{cos}^2 x$

b) $\tan^2 x = \operatorname{sen}^2 x + \operatorname{sen}^2 x \cdot \tan^2 x$

c) $\frac{\operatorname{sen}\alpha \cdot \operatorname{cos}\alpha}{\operatorname{tg}\alpha} = 1 - \operatorname{sen}^2\alpha$

d) $(1 + \operatorname{tg}^2\alpha) \cdot \operatorname{cos}^2\alpha = 1$

e) $\operatorname{cos}\alpha + \frac{\operatorname{sen}^2\alpha}{\operatorname{cos}\alpha} = \frac{1}{\operatorname{cos}\alpha}$

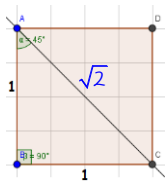
f) $\operatorname{cos}^4 x - \operatorname{sen}^4 x = 2 \cdot \operatorname{cos}^2 x - 1$

7.05.- Razones trigonométricas de los ángulos 30°, 45° y 60°.

Los triángulos rectángulos cuyos ángulos agudos son 45°, 30° o 60° aparecen con mucha frecuencia, por lo que resultan especialmente interesantes en geometría. Así que, vamos a hallar las razones trigonométricas de estos ángulos que como veremos se pueden calcular de forma exacta.

ÁNGULO de 45°

Utilizamos un cuadrado de lado unidad, en el que la diagonal, d , la calculamos mediante Pitágoras y vale $d = \sqrt{2}$

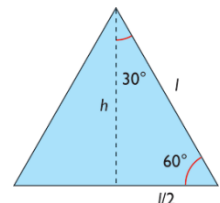


Aquí, tenemos que:
$$\begin{cases} \operatorname{sen} 45^\circ = \frac{1}{\sqrt{2}} = \frac{\sqrt{2}}{2} \\ \operatorname{Cos} 45^\circ = \frac{1}{\sqrt{2}} = \frac{\sqrt{2}}{2} \end{cases}$$
 y de donde $\rightarrow \tan 45^\circ = \frac{\operatorname{sen} 45^\circ}{\operatorname{cos} 45^\circ} = \frac{\frac{\sqrt{2}}{2}}{\frac{\sqrt{2}}{2}} = 1$

ÁNGULO de 30°

Utilizaremos un triángulo equilátero de lado l , en el que calculamos su altura en función de dicho lado utilizando el teorema de Pitágoras:

$$h = \sqrt{l^2 - \left(\frac{l}{2}\right)^2} = \sqrt{\frac{3l^2}{4}} = \frac{\sqrt{3}}{2}l$$



De aquí, tenemos que:
$$\begin{cases} \operatorname{sen} 30^\circ = \frac{l/2}{l} = \frac{1}{2} \\ \operatorname{cos} 30^\circ = \frac{\sqrt{3}/2 l}{l} = \frac{\sqrt{3}}{2} \end{cases}$$
 de donde $\rightarrow \tan 30^\circ = \frac{\operatorname{Sen} 30^\circ}{\operatorname{cos} 30^\circ} = \frac{l/2}{\sqrt{3}/2 l} = \frac{1}{\sqrt{3}} = \frac{\sqrt{3}}{3}$

ÁNGULO de 60°

De forma similar, y usando el mismo triángulo:
$$\begin{cases} \operatorname{sen} 60^\circ = \frac{\sqrt{3} \cdot l/2}{l} = \frac{\sqrt{3}}{2} \\ \operatorname{cos} 60^\circ = \frac{l/2}{l} = \frac{1}{2} \end{cases} \rightarrow \tan 60^\circ = \frac{\operatorname{Sen} 60^\circ}{\operatorname{cos} 60^\circ} = \frac{\sqrt{3}/2}{1/2} = \sqrt{3}$$

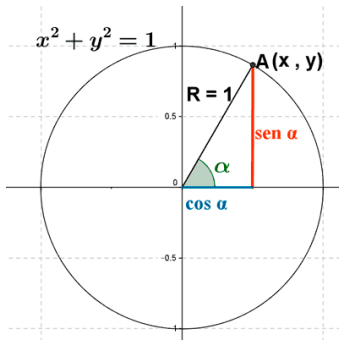
Por tanto tenemos que: $\operatorname{sen} 45^\circ = \operatorname{cos} 45^\circ = \frac{\sqrt{2}}{2}$

$\operatorname{sen} 30^\circ = \operatorname{cos} 60^\circ = \frac{1}{2}$

$\operatorname{sen} 60^\circ = \operatorname{cos} 30^\circ = \frac{\sqrt{3}}{2}$

De donde podemos deducir que si α y β son dos **ángulos complementarios**, ocurre que:
$$\begin{cases} \operatorname{sen} \alpha = \operatorname{cos} \beta \\ \operatorname{cos} \alpha = \operatorname{sen} \beta \end{cases}$$

7.06.- Razones trigonométricas de un ángulo cualquiera.



Una circunferencia goniométrica es una circunferencia especial que vamos a utilizar para medir ángulos y definir las razones trigonométricas de los mismos.

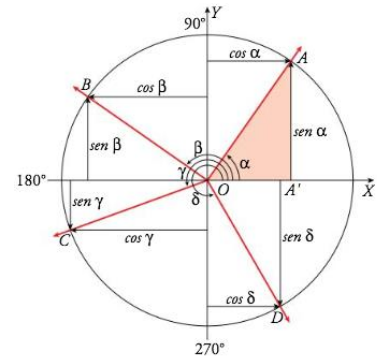
Consideremos una circunferencia de centro (0,0) y radio 1. Como todas las relaciones trigonométricas son razones de proporcionalidad, el valor del radio nos resultará indiferente, pero, si lo consideramos como 1, nos hará los cálculos más sencillos.

Cada ángulo α queda determinado por un punto A de coordenadas (x, y) , sobre la circunferencia goniométrica, y se cumple:

$$A = (x, y) = (\cos \alpha, \text{sen } \alpha)$$

Como la hipotenusa del triángulo mide 1:

$$\text{sen } \alpha = \frac{y}{1} = y \qquad \cos \alpha = \frac{x}{1} = x$$



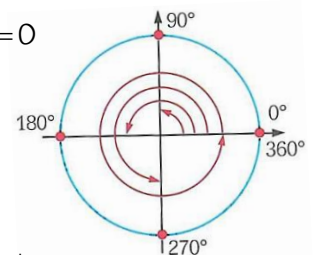
Como siempre, la identidad fundamental de la trigonometría se cumple para todos los casos. $\text{Sen}^2 \alpha + \text{Cos}^2 \alpha = 1$

Las razones trigonométricas de los ángulos 30° , 45° y 60° ya los hemos visto con anterioridad, veamos ahora otras de ángulos también importantes:

🍏 **Ángulo de amplitud 0° :**

$$\begin{cases} \text{Sen } 0^\circ = \frac{\text{cat.opuesto}}{\text{hipotenusa}} = \frac{0}{1} = 0 \\ \text{Cos } 0^\circ = \frac{\text{cat.contiguo}}{\text{hipotenusa}} = \frac{1}{1} = 1 \end{cases}$$

$$\rightarrow \text{tg } 0^\circ = \frac{\text{sen } 0^\circ}{\text{cos } 0^\circ} = \frac{0}{1} = 0$$



🍏 **Ángulo recto, 90° :**

$$\begin{cases} \text{Sen } 90^\circ = \frac{\text{cat.opuesto}}{\text{hipotenusa}} = \frac{1}{1} = 1 \\ \text{Cos } 90^\circ = \frac{\text{cat.contiguo}}{\text{hipotenusa}} = \frac{0}{1} = 0 \end{cases}$$

$$\rightarrow \text{tg } 90^\circ = \frac{\text{sen } 90^\circ}{\text{cos } 90^\circ} = \frac{1}{0} = +\infty$$

🍏 **Ángulo llano, 180° :**

$$\begin{cases} \text{Sen } 180^\circ = \frac{\text{cat.opuesto}}{\text{hipotenusa}} = \frac{0}{1} = 0 \\ \text{Cos } 180^\circ = \frac{\text{cat.contiguo}}{\text{hipotenusa}} = \frac{-1}{1} = -1 \end{cases}$$

$$\rightarrow \text{tg } 180^\circ = \frac{\text{sen } 180^\circ}{\text{cos } 180^\circ} = \frac{0}{-1} = 0$$

Piensa y practica

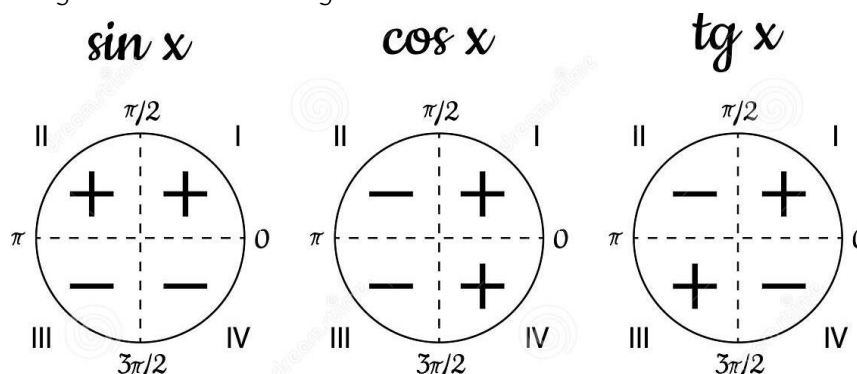
9.- Calcula de forma razonada utilizando la circunferencia goniométrica las razones trigonométricas del ángulo 270°

7.07.- Signo de las razones trigonométricas

El signo de las razones trigonométricas de un ángulo cualquiera dependen del cuadrante donde se encuentre dicho ángulo.

Primer Cuadrante	Segundo cuadrante	Tercer cuadrante	Cuarto cuadrante
$0 < \alpha < 90^\circ$	$90^\circ < \alpha < 180^\circ$	$180^\circ < \alpha < 270^\circ$	$270^\circ < \alpha < 360^\circ$
$0 < \alpha < \frac{\pi}{2}$	$\frac{\pi}{2} < \alpha < \pi$	$\pi < \alpha < \frac{3\pi}{2}$	$\frac{3\pi}{2} < \alpha < 2\pi$
Sen $\alpha = +$ Tg $\alpha = +$	Sen $\alpha = +$ Cos $\alpha = -$ Tg $\alpha = -$	Sen $\alpha = -$ Cos $\alpha = -$ Tg $\alpha = +$	Sen $\alpha = -$ Cos $\alpha = +$ Tg $\alpha = -$

Podemos resumir los signos de las razones trigonométricas en:

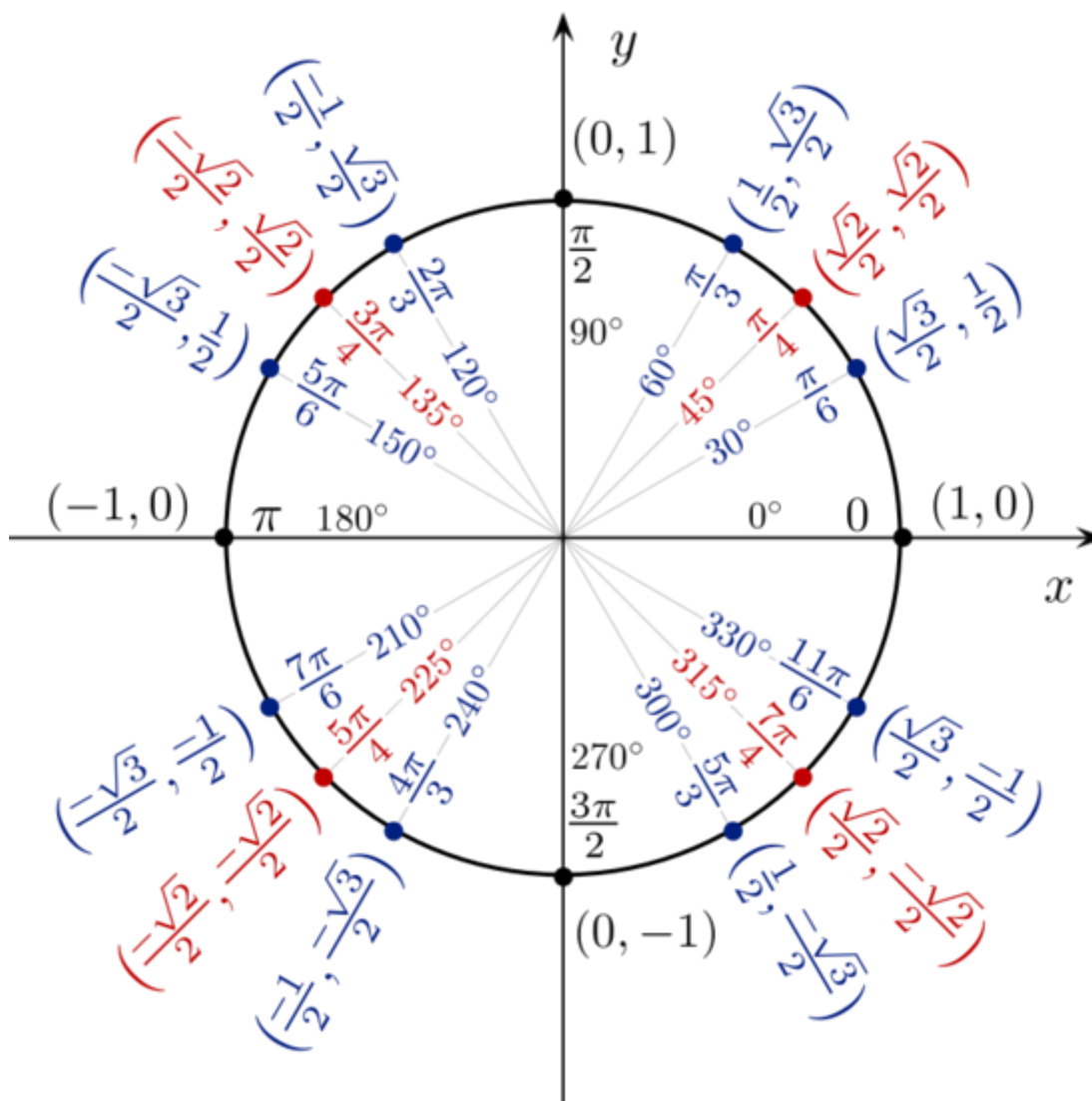


Así, las razones trigonométricas de los ángulos más importantes son:

α	0°	30°	45°	60°	90°	120°	135°	150°	180°	210°	225°	240°	270°	300°	315°	330°	360°		
rad	0	$\frac{\pi}{6}$	$\frac{\pi}{4}$	$\frac{\pi}{3}$	$\frac{\pi}{2}$	$\frac{2\pi}{3}$	$\frac{3\pi}{4}$	$\frac{3\pi}{4}$	π	$\frac{7\pi}{6}$	$\frac{5\pi}{4}$	$\frac{4\pi}{3}$	$\frac{3\pi}{2}$	$\frac{5\pi}{3}$	$\frac{7\pi}{4}$	$\frac{11\pi}{6}$	2π		
Razones Trigonométricas Principales																			
Sen	0	$\frac{1}{2}$	$\frac{\sqrt{2}}{2}$	$\frac{\sqrt{3}}{2}$	1	$\frac{\sqrt{3}}{2}$	$\frac{\sqrt{2}}{2}$	$\frac{1}{2}$	0	$-\frac{1}{2}$	$-\frac{\sqrt{2}}{2}$	$-\frac{\sqrt{3}}{3}$	-1	$-\frac{\sqrt{3}}{2}$	$-\frac{\sqrt{2}}{2}$	$-\frac{1}{2}$	0		
Cos	1	$\frac{\sqrt{3}}{2}$	$\frac{\sqrt{2}}{2}$	$\frac{1}{2}$	0	$-\frac{1}{2}$	$-\frac{\sqrt{2}}{2}$	$-\frac{\sqrt{3}}{2}$	-1	$-\frac{\sqrt{3}}{2}$	$-\frac{\sqrt{2}}{2}$	$-\frac{1}{2}$	0	$\frac{1}{2}$	$\frac{\sqrt{2}}{2}$	$\frac{\sqrt{3}}{2}$	1		
Tan	0	$\frac{\sqrt{3}}{3}$	1	$\sqrt{3}$	$\pm \infty$	$-\sqrt{3}$	-1	$-\frac{\sqrt{3}}{3}$	0	$\frac{\sqrt{3}}{3}$	1	$\sqrt{3}$	$\pm \infty$	$-\sqrt{3}$	-1	$\frac{\sqrt{3}}{3}$	0		
Razones Trigonométricas Inversas																			
Cosec	$\pm \infty$	2	$\sqrt{2}$	$\frac{2\sqrt{3}}{3}$	1	$\frac{2\sqrt{3}}{2}$	$\sqrt{2}$	2	$\pm \infty$	-2	$-\sqrt{2}$	$\frac{2\sqrt{3}}{2}$	-1	$-\frac{2\sqrt{3}}{3}$	$-\sqrt{2}$	-2	$\pm \infty$		
Sec	1	$\frac{2\sqrt{3}}{3}$	$\sqrt{2}$	2	$\pm \infty$	-2	$-\sqrt{2}$	$-\frac{2\sqrt{3}}{3}$	-1	$-\frac{2\sqrt{3}}{3}$	$-\sqrt{2}$	-2	$\pm \infty$	2	$\sqrt{2}$	$\frac{2\sqrt{3}}{2}$	1		
Cotg	$\pm \infty$	$\sqrt{3}$	1	$\frac{\sqrt{3}}{3}$	0	$-\frac{\sqrt{3}}{3}$	-1	$-\sqrt{3}$	$\pm \infty$	$\sqrt{3}$	$\frac{\sqrt{3}}{3}$	$\frac{\sqrt{3}}{3}$	0	$-\frac{\sqrt{3}}{3}$	-1	$-\sqrt{3}$	$\pm \infty$		
	1° Cuadrante					2° Cuadrante					3° Cuadrante					4° Cuadrante			

Como podemos observar en la tabla anterior, los valores de las razones trigonométricas se van repitiendo en todos los cuadrantes, variando simplemente sus signos.

Seno y coseno de los ángulos más importantes de la circunferencia goniométrica



Como podemos ver en la circunferencia goniométrica los valores tanto del seno como del coseno de cualquier ángulo están acotados:

$$-1 \leq \text{sen}(\alpha) \leq 1$$

$$-1 \leq \text{cos}(\alpha) \leq 1$$

7.7.1.- Regla para calcular las razones Trigonómicas de los ángulos más importantes

	0°	30°	45°	60°	90°
$\text{Sen } \alpha =$	$\sqrt{0}$	1	2	3	4
			2		
$\text{Cos } \alpha =$	$\sqrt{4}$	3	2	1	0
			2		
$\text{Tg } \alpha =$	$\sqrt{0}$	1	2	3	4
	$\sqrt{4}$	3	2	1	0

Numeramos los ángulos de 0 a 4 en orden creciente. El número que corresponde a cada ángulo será el n del mismo. Numerados así el seno de un ángulo será la raíz de su n partida por 2. De esta forma obtenemos la fila de los senos.

Para obtener la fila de los cosenos no hace falta ningún cálculo, simplemente colocamos la fila que hemos obtenido antes en orden inverso. Y para obtener la de las tangentes, simplemente divididos el valor del seno entre el valor del coseno.

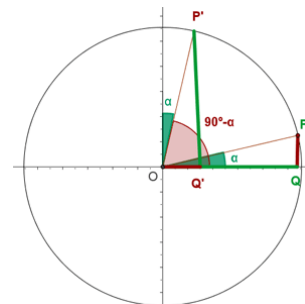
7.08.- Relaciones trigonométricas entre las razones de ciertos ángulos.

Como hemos visto al calcular las razones trigonométricas tanto de los ángulos de 30° y de 60° , como de los ángulos fundamentales en el segundo, tercer y cuarto cuadrante, existen relaciones entre unas y otras. Vamos a estudiarlas de forma más precisa y particular:

7.8.1.- Ángulos Complementarios

Dos ángulos, α y β , son **complementarios** cuando $\alpha + \beta = 90^\circ$. Para calcular sus razones trigonométricas, utilizamos las medidas de los lados del triángulo rectángulos de α y $\beta = 90 - \alpha$

$$\left. \begin{array}{l} \text{Sen}(90 - \alpha) = \text{cos } \alpha \\ \text{Cos}(90 - \alpha) = \text{sen } \alpha \end{array} \right\} \tan(90 - \alpha) = \text{cot } \alpha$$



Ejemplo

6.- Calcula las razones trigonométricas del ángulo de 60° con la ayuda de las del ángulo de 30° .

Como ambos ángulos son complementarios, podemos hacer que $60 = 90 - 30$:

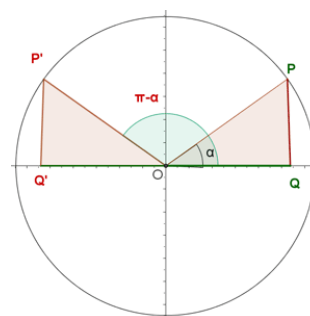
$$\left. \begin{array}{l} \text{Sen } 60^\circ = \text{sen}(90^\circ - 30^\circ) = \text{cos } 30^\circ = \frac{\sqrt{3}}{2} \\ \text{Cos } 60^\circ = \text{Cos}(90^\circ - 30^\circ) = \text{Sen } 30^\circ = \frac{1}{2} \end{array} \right\} \rightarrow \tan 60^\circ = \tan(90^\circ - 30^\circ) = \text{cot } 30^\circ = \sqrt{3}$$

Por tanto, $\text{Sen } 60^\circ = \text{Cos } 30^\circ$ y $\text{Cos } 60^\circ = \text{Sen } 30^\circ$

7.8.2.- Ángulos Suplementarios

Dos ángulos, α y β , son **suplementarios** cuando $\alpha + \beta = 180^\circ$. Para calcular sus razones trigonométricas nos fijaremos en la figura adjunta en la que podemos observar que son iguales excepto en los signos:

$$\left. \begin{array}{l} \text{Sen}(\pi - \alpha) = \text{Sen } \alpha \\ \text{Cos}(\pi - \alpha) = -\text{Cos } \alpha \end{array} \right\} \tan(\pi - \alpha) = -\tan \alpha$$



Ejemplo

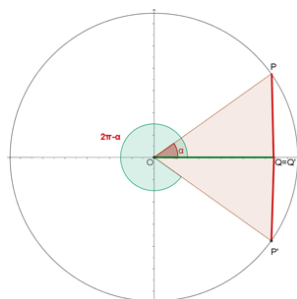
7.- Calcula las razones trigonométricas del ángulo de 150° con la ayuda de las del ángulo de 30° .

Como ambos ángulos son suplementarios, podemos hacer que $150 = 180 - 30$ y observando la figura:

$$\left. \begin{array}{l} \text{sen } 150^\circ = \text{sen}(180^\circ - 30^\circ) = \text{sen } 30^\circ = \frac{1}{2} \\ \text{cos } 150^\circ = \text{cos}(180^\circ - 30^\circ) = -\text{cos } 30^\circ = -\frac{\sqrt{3}}{2} \end{array} \right\} \rightarrow \text{tg } 150^\circ = \text{tg}(180^\circ - 30^\circ) = -\text{tg } 30^\circ = -\frac{\sqrt{3}}{3}$$

Por tanto, $\text{Sen } 150^\circ = \text{Sen } 30^\circ$; $\text{Cos } 150^\circ = -\text{Cos } 30^\circ$ y $\text{tg } 150^\circ = -\text{tg } 30^\circ$

7.8.3.- Ángulos Opuestos:



Dos ángulos, α y β , son **opuestos** cuando $\alpha + \beta = 360^\circ$. Al igual que en los casos anteriores, Para calcular sus razones trigonométricas nos fijaremos en la figura adjunta, en la que vuelven a coincidir, pero no los signos:

$$\left. \begin{array}{l} \text{sen}(2\pi - \alpha) = -\text{sen } \alpha \\ \text{cos}(2\pi - \alpha) = \text{cos } \alpha \end{array} \right\} \tan(2\pi - \alpha) = -\tan \alpha$$

Ejemplo

8.- Calcula las razones trigonométricas del ángulo de 330 con la ayuda de las del ángulo de 30.

Como ambos ángulos son opuestos, podemos hacer que $330 = 360 - 30$ y observando la figura:

$$\left. \begin{aligned} \operatorname{sen} 330^\circ &= \operatorname{sen}(360^\circ - 30^\circ) = -\operatorname{sen} 30^\circ = -\frac{1}{2} \\ \operatorname{cos} 330^\circ &= \operatorname{cos}(360^\circ - 30^\circ) = \operatorname{cos} 30^\circ = \frac{\sqrt{3}}{2} \end{aligned} \right\} \rightarrow \tan 330^\circ = \tan(360^\circ - 30^\circ) = -\tan 30^\circ = -\frac{\sqrt{3}}{3}$$

Por tanto, $\operatorname{Sen} 330^\circ = -\operatorname{Sen} 30^\circ$; $\operatorname{Cos} 330^\circ = \operatorname{Cos} 30^\circ$ y $\operatorname{tg} 330^\circ = -\operatorname{tg} 30^\circ$

Piensa y practica

10.- Utiliza la calculadora para hallar las razones trigonométricas del ángulo de 35° y a partir de ellas, calcula de forma razonada las razones trigonométricas de su complementario, su suplementario y su opuesto.

11.- Calcula las razones trigonométricas de los ángulos de 65°, 155° y 335°, sabiendo que:

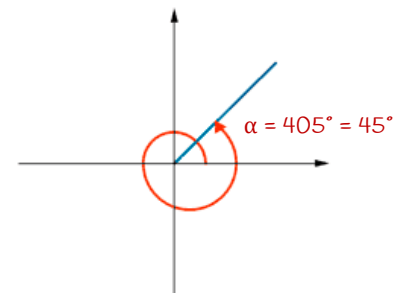
$$\operatorname{sen} 25^\circ = 0,42; \operatorname{cos} 25^\circ = 0,91 \text{ y } \operatorname{tg} 25^\circ = 0,47$$

12.- Sabiendo que en un triángulo rectángulo, el seno de uno de los ángulos agudos vale 0,9848, ¿eres capaz de calcular las razones trigonométricas del otro ángulo agudo?

7.8.4.- Ángulos Mayores de 360°:

Para calcular las razones trigonométricas de un ángulo mayor de 360°, haremos la división entera de dicho ángulo entre 360, y calcularemos las razones del resto de la división porque dichas razones coinciden.

$$\left. \begin{aligned} \operatorname{sen}(\alpha + 2k\pi) &= \operatorname{sen} \alpha \\ \operatorname{cos}(\alpha + 2k\pi) &= \operatorname{cos} \alpha \end{aligned} \right\} \tan(\alpha + 2k\pi) = \tan \alpha$$


Ejemplo

9.- Calcula las razones trigonométricas del ángulo de 750°

Lo primero que haremos será la división de 750 entre 360 para ver el número de vueltas y sobre todo el resto: $\begin{array}{r} 750 \quad | \quad 360 \\ \underline{30} \quad | \quad 2 \\ \text{Resto} \end{array}$

Por tanto, las razones trigonométricas de 750° coinciden con las del ángulo de 30°

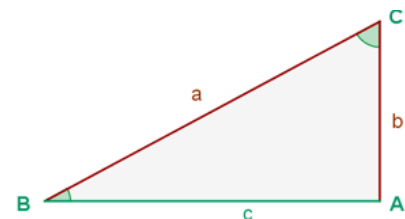
$$\left. \begin{aligned} \operatorname{sen} 750^\circ &= \operatorname{sen} 30^\circ = \frac{1}{2} \\ \operatorname{cos} 750^\circ &= \operatorname{cos} 30^\circ = \frac{\sqrt{3}}{2} \end{aligned} \right\} \rightarrow \tan 750^\circ = \tan 30^\circ = \frac{\sqrt{3}}{3}$$

Por tanto, $\operatorname{Sen} 750^\circ = \operatorname{Sen} 30^\circ$; $\operatorname{Cos} 750^\circ = \operatorname{Cos} 30^\circ$ y $\operatorname{tg} 750^\circ = \operatorname{tg} 30^\circ$

7.09.- Resolución de triángulos rectángulos

Resolver un triángulo rectángulo consiste en hallar las medidas de todos sus lados y de todos sus ángulos a partir de otros conocidos. Para ello, nos valemos de las siguientes relaciones:

- 🍏 Teorema de Pitágoras: $a^2 = b^2 + c^2$
- 🍏 Los ángulos agudos son complementarios: $B + C = 90^\circ$
- 🍏 Las razones trigonométricas principales, seno, coseno y tangente.



$$\operatorname{Sen} B = \frac{b}{a} \quad \operatorname{Cos} B = \frac{c}{a} \quad \tan B = \frac{b}{c} \quad \tan C = \frac{c}{b}$$

- Para resolver un triángulo **conocidos dos lados**, calculamos el lado desconocido con el teorema de Pitágoras y uno de sus ángulos mediante las razones trigonométricas. El otro ángulo será la diferencia con 90.
- Para resolver un triángulo rectángulo **conocidos un lado y un ángulo**, calculamos el otro ángulo puesto que son complementarios y para calcular los lados usamos las razones trigonométricas para uno y el teorema de Pitágoras para el otro.

Ejemplo

10.- Resuelve el triángulo rectángulo del que sabemos que su hipotenusa es de 15 cm y el ángulo B es de 30°.

Lo primero es calcular el ángulo C = 90 - 30 = 60°

Para determinar el cateto b, usaremos el seno de B; $\text{sen}B = \frac{b}{a} \rightarrow \text{sen}30 = \frac{b}{15} \rightarrow b = 15 \cdot \text{sen}30 = 15 \cdot \frac{1}{2} = 7,5 \text{ cm}$

Para calcular el cateto c, lo podemos hacer mediante el teorema de Pitágoras, o mediante el coseno de 30°.

- Mediante Pitágoras: $c = \sqrt{a^2 - b^2} = \sqrt{15^2 - 7,5^2} = 12,99 \text{ cm}$
- Mediante: $\text{cos}30 = \frac{c}{15} \Rightarrow c = 15 \cdot \text{cos}30 = 15 \cdot \frac{\sqrt{3}}{2} = 12,99 \text{ cm}$

Por tanto: A=90°, B=30°, C=60°, a=15 cm, b=7,5 cm y c=12,99 cm.

TRIGONOMETRÍA		Resolución de TRIÁNGULOS RECTÁNGULOS					A = 90°
DATOS		INCÓGNITAS: Hallar los otros tres					
Dados tres valores	a	b	c	A	B	C	
Hipotenusa y cateto	a	b	$c = \sqrt{a^2 - b^2}$	90°	$\text{sen} B = \frac{b}{a}$	$\text{cos} C = \frac{b}{a}$	
Dos catetos	$a = \sqrt{b^2 + c^2}$	b	c	90°	$\text{tg} B = \frac{b}{c}$	$\text{tg} C = \frac{c}{b}$	
Hipotenusa y ángulo	a	$b = a \text{ sen} B$	$c = a \text{ cos} B$	90°	B	$C = 90 - B$	
Cateto y ángulo opuesto	$a = \frac{b}{\text{sen} B}$	b	$c = \frac{b}{\text{tg} B}$	90°	B	$C = 90 - B$	
Cateto y ángulo contiguo	$a = \frac{b}{\text{cos} C}$	b	$c = b \text{ tg} C$	90°	$B = 90 - C$	C	
Dos ángulos	$\begin{cases} b = a \text{ sen} B \\ c = a \text{ sen} C \end{cases} \quad \forall a \in \mathbb{R}$ Infinitas soluciones con lados proporcionales			90°	B	C	

Se usan de preferencia los datos originales

En todos los casos, Área del triángulo: $S = \frac{bc}{2} = \frac{ba \text{ sen} C}{2}$

Piensa y practica

13.- Uno de los catetos de un triángulo rectángulo mide 4,8 cm y el ángulo opuesto a este cateto mide 54°. Halla la medida del resto de los lados y de los ángulos del triángulo.
 Sol: a=3,5 y A=36°; b=4,8 y B=54°; c=5,93 y C=90°

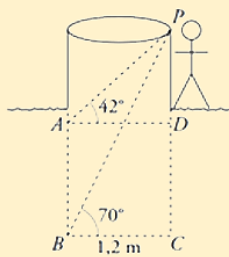
14.- En un triángulo rectángulo la hipotenusa mide 15 cm y uno de los catetos mide 12 cm. Calcula la longitud del otro cateto y la medida de sus ángulos.
 Sol: a=12 y A=53° 7' 48"; b=9 y B=36° 52' 12"; c=15 y C=90°

15.- Para medir la altura de una torre nos situamos en un punto y vemos el punto más alto de la torre bajo un ángulo de 60°. Nos acercamos 5 m a la torre en línea recta y el ángulo es de 80°. Halla la altura de la torre.
 Sol: h=12,47 m

Ejemplo

11.- En un huerto hay un pozo de 1,2 m de ancho. Cuando está vacío vemos, desde el brocal, el borde opuesto del fondo bajo un ángulo de 70° con la horizontal. Cuando el agua sube, vemos el borde opuesto del agua bajo un ángulo de 42° . ¿Cuál es la altura del pozo? ¿Cuánto subió el agua?

Lo primero es hacer un dibujo en el que se reflejen los datos del problema:



$$\text{En el triángulo PBC: } \operatorname{tg} 70^\circ = \frac{\overline{PC}}{1,2} \rightarrow \overline{PC} = 1,2 \cdot \operatorname{tg} 70^\circ = 3,3 \text{ m}$$

$$\text{En el triángulo PAD: } \operatorname{tg} 42^\circ = \frac{\overline{PD}}{1,2} \rightarrow \overline{PD} = 1,2 \cdot \operatorname{tg} 42^\circ = 1,1 \text{ m}$$

La altura del pozo se corresponde con el segmento $\overline{PC} = 3,3 \text{ m}$

$$\text{La altura del agua } \overline{AB} = \overline{PC} - \overline{PD} = 3,3 - 1,1 = 2,2 \text{ m}$$

Por tanto, la altura del pozo es de 3,3 metros y el agua subió 2,2 metros.

7.10.- Autoevaluación

01.- Expresa en radianes los siguientes ángulos sexagesimales: a) 1200° ; b) 750° ; c) 2880°

02.- Expresa en grados sexagesimales los siguientes ángulos en radianes: a) 1 rad; b) 3π rad; c) $5\pi/3$

03.- Si $\cos \alpha = 0,52$ calcula las restantes razones trigonométricas.

04.- Si $\operatorname{tg} \alpha = 12/5$ calcula las restantes razones trigonométricas.

05.- Los brazos de un compás, que miden 12 cm, forman un ángulo de 50° . ¿Cuál es el radio de la circunferencia que puede trazarse con esa abertura?

06.- En un triángulo rectángulo, un ángulo agudo mide 50° , y la hipotenusa, 16 cm. Resuelve el triángulo.

07.- En un triángulo isósceles, cada uno de los ángulos iguales mide 70° y su altura es de 12 cm. Halla la medida de los lados del triángulo.

08.- Comprueba las siguientes identidades:

a) $\operatorname{sen}^2 x - \cos^2 y = \operatorname{sen}^2 y - \cos^2 x$

b) $(1 + \tan^2 \alpha) \cdot \cos^2 \alpha = 1$

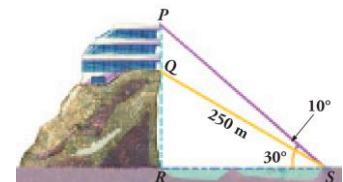
c) $\frac{1 - \operatorname{sen} \alpha}{\cos \alpha} = \frac{\cos \alpha}{1 + \operatorname{sen} \alpha}$

d) $\frac{\cos \alpha - \cos^3 \alpha}{\operatorname{sen} \alpha - \operatorname{sen}^3 \alpha} = \operatorname{tg} x$

e) $\cos \alpha + \frac{\operatorname{sen}^2 \alpha}{\cos \alpha} = \frac{1}{\cos \alpha}$



09.- Para calcular la altura del edificio, PQ, hemos medido los ángulos que aparecen en la figura y sabemos que hay un funicular para ir de S a Q, cuya longitud es de 250 m. Halla la altura del edificio PQ.



10.- Para localizar una emisora pirata, dos receptores, A y B, que distan entre sí 10 km, orientan sus antenas hacia el punto donde está la emisora. Estas direcciones forman con AB ángulos de 40° y 65° . ¿A qué distancia de A y B se encuentra dicha emisora?

11.- Halla el ángulo que forma la diagonal de un cubo de arista x con la diagonal de la base.

12.- En un triángulo rectángulo, uno de los catetos mide el doble que el otro. ¿Cuánto valen las razones trigonométricas del ángulo menor?

13.- Dos fuerzas de 17 y 27 Newton dan una resultante de 12 N. Calcular el ángulo que forman entre sí y los que forman cada una de ellas con la resultante. (Idem con 46 y 25 N y resultante 58 N).

14.- Sean A y B dos puntos inaccesibles pero visibles ambos desde puntos accesibles C y D separados por 73,2 m. Suponiendo que los ángulos $\angle ACD = 80^\circ 12'$, $\angle BCD = 43^\circ 31'$, $\angle BDC = 32^\circ$ y $\angle ADC = 23^\circ 14'$, determinar la distancia AB.

15.- Dos observadores A y B esperan a los concursantes de una carrera de regatas en los extremos de la línea de llegada que mide 100 m. En un momento ven dos embarcaciones con la siguiente posición $\angle CAB = 80^\circ$, $\angle DAB = 70^\circ$, $\angle ABC = 80^\circ$ y $\angle ABD = 90^\circ$. ¿Cuál de ellas está más próxima de la meta?



© Intergranada.com

2022